

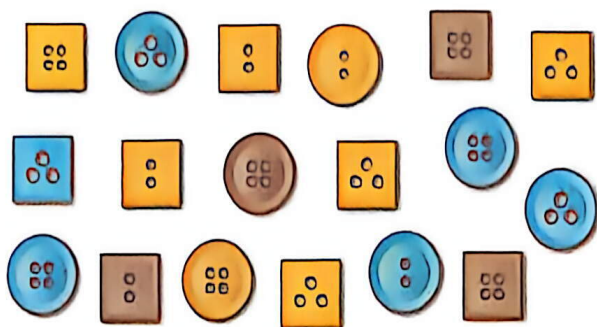


# 四

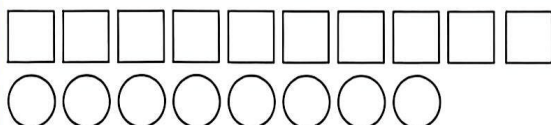
## 数据分类（二）



1 下面的纽扣中，哪种形状的多？



可以按形状分成两类，再数一数、比一比。



正方形的纽扣多。



正方形	✓✓✓✓✓✓✓✓✓✓
圆形	✓✓✓✓✓✓✓✓

还可以怎样分类？通过分类能知道什么？



要想知道正方形纽扣中几眼的最多，可以怎样做？要想知道4眼纽扣中哪种形状的最多呢？

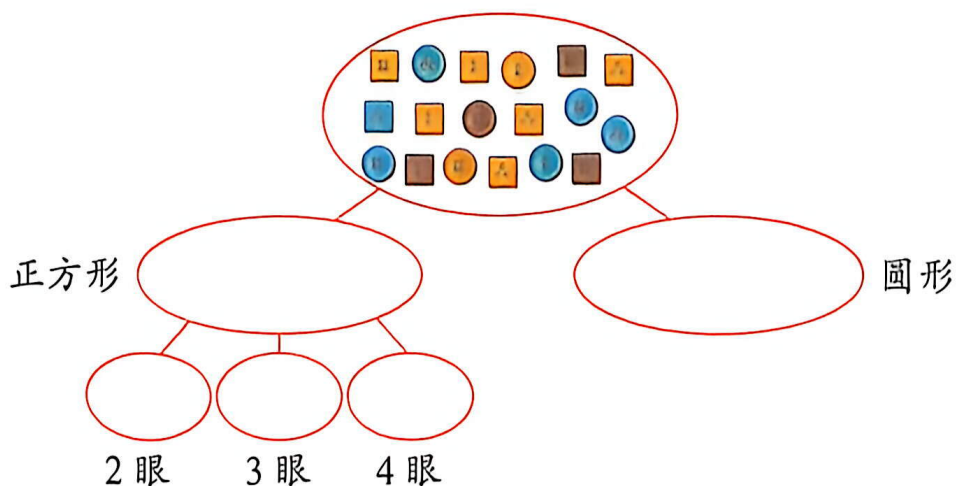


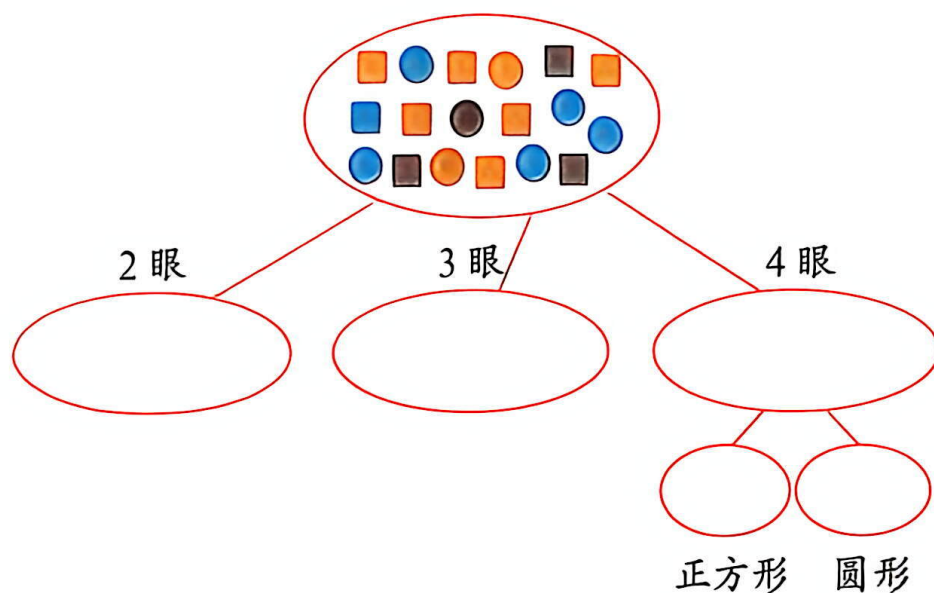
把正方形纽扣按扣眼个数再分一分。

把4眼纽扣按形状再分一分。



小组合作，根据需要解决的问题分一分，并表示分类结果。






通过分类，你又能想到什么？




## 想想做做

1. 下面的画片可以怎样分类？先分一分，再说说分类的标准和结果。



2. 下面的扑克牌可以怎样分类？分一分，并表示结果。





3. 下面的交通标志可以怎样分类？先说一说，再分一分。



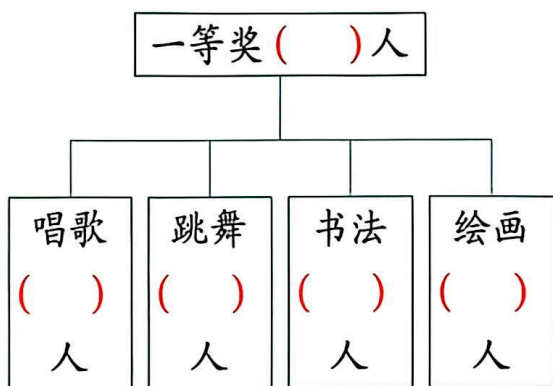
这些交通标志中，哪种形状的最多？



4. 北山小学二年级一班在学校艺术节的获奖情况如下。获一等奖的同学中，是唱歌的多，还是跳舞的多？想一想，分一分。

于 强	书法	一等奖	黄晓晓	绘画	二等奖	李茵茵	跳舞	一等奖
王燕燕	唱歌	一等奖	赵明明	书法	三等奖	马子然	书法	二等奖
刘 飞	绘画	三等奖	郭辰辰	绘画	一等奖	居小芸	唱歌	三等奖
姜青青	跳舞	一等奖	陶 涛	书法	二等奖	游昆仑	绘画	二等奖
柳如松	书法	三等奖	李宁宁	跳舞	三等奖	季小海	跳舞	一等奖


一等奖      二等奖      三等奖



还可以怎样分？

